

Nimi

Hilinemine min

PUNKTE

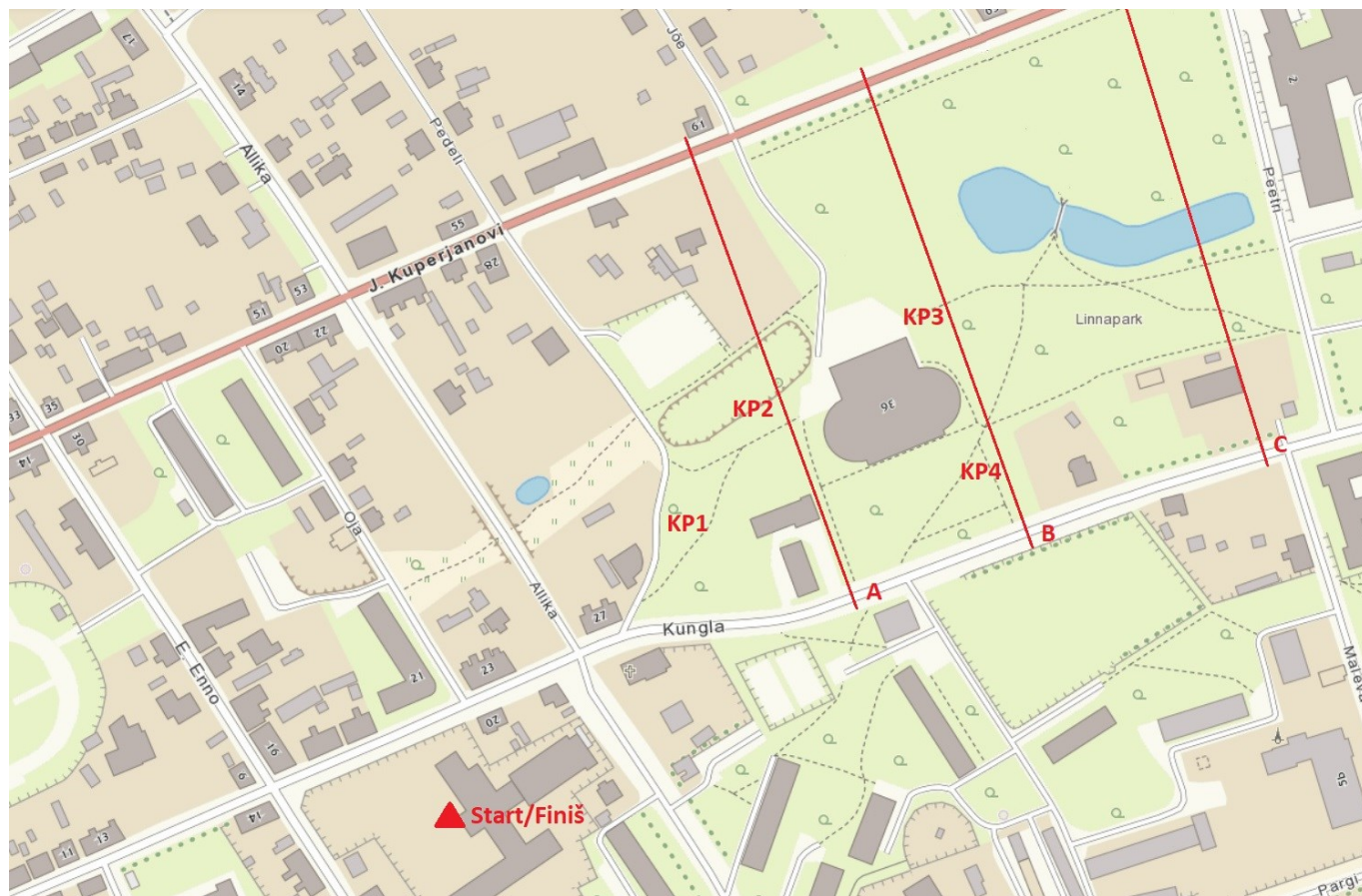
Maastikuvõistluse ülesannete lahendamiseks on aega 2,5 tundi. Iga hilinenud minuti eest kaotab võistleja 0,25 punkti. Maastikul ei pea ülesandeid tegema sellises järjekorras, jälgil olukorda ja otsustada, millal on õige aeg teha mõõdistamisi või vastata küsimustele.

Ole tänavatel liikudes ettevaatlik!

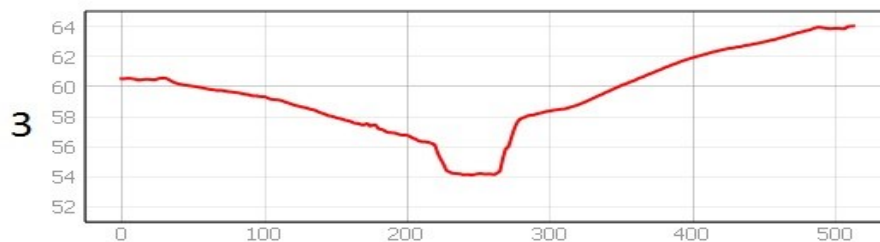
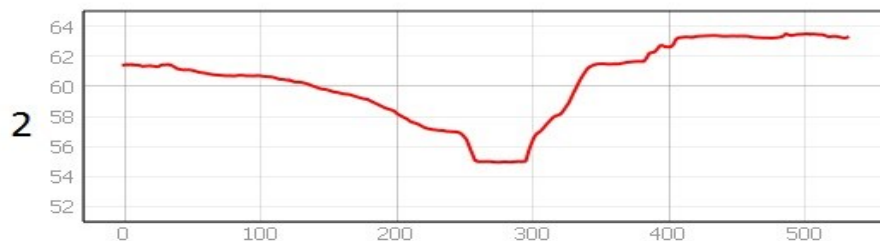
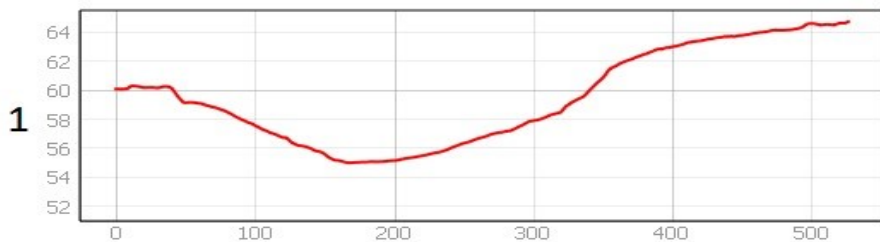
1. Mõõda tähistatud kohas (**KP 1**) nõlva kõrgus. Nõlva kõrgus on m (2p)
2. Mõõda malliga, kui suur on nõlva kalle tähistatud kohas. (**KP2**)
Nõlva kalle on°. (2p)
3. Arvuta Linnapargi kaardi (KAART 1) mõõtkava. Kaardi mõõtkava on: 1: (2p)
4. Seisa kaardil tähistatud punktis 3 (**KP 3**) ja määra, mis asimuudil asub valge lindiga tähistatud puu.
Puu asimuut on°. (2p)
5. Liigu kontrollpunkti 4 (**KP 4**) tähisest asimuudil 250° 25 m ja siis asimuudil 300° 35 m.
Tähista kaardil 1 ristikesega **x** võimalikult täpselt koht, kuhu jõudsid. (3p)
6. Vaata lisalehel olevaid fotosid, mis on tehtud eri aegadel Linnapargist. Tähistage kaardil 1 tähtedega C ja D kohad, kus seisis fotograaf, kui neid pilte pildistas ja noolega pildistamise suund. (3p)
7. Märki Linnapargi kaardi väljavõttele (KAART 2) silmamõõduliselt puuduvad objektid (*discgolffi korvide asukohad, Vabadussõja ausammas koos alusega, pingid ja teerajad*). Koosta legend. (7p)
8. Vaata lisalehel olevaid profiiljooni Linnapargist ja vii need kokku kaardil 1 olevate asukohtadega. (4p)
Profiiljoon 1 on kaardil tähistatud tähega
Profiiljoon 2 on kaardil tähistatud tähega
Profiiljoon 3 on kaardil tähistatud tähega
9. Vaata lisalehel olevat kaldaerofotot Valgast ja otsusta, mis ilmakaarest on see tehtud? (1p)
Foto on tehtud
10. Võrdle lisalehel olevat 1963. aasta kaarti Linnapargi piirkonnast tänase kaardiga. Mis muutused on Linnapargis toimunud? (4p)
- a)
- b)
- c)
- d)
- e)

Kaart 1

Nimi



Profiljooned



Linnapargi KAART 2

Nimi



Legend

Fotod Linnapargist



Kaldaerofoto Valga linnast



1963. aasta kaart Linnapargi piirkonnast

