

Имя участника	
Школа и класс участника	
Е-мейл участника	

Тетрадь ответов

1.

1.1

1.1.1

1.1.2

1.1.3 (Обведи кружком)

1. часть рисунка **A/B**, хищник/жертва

2. часть рисунка **A/B**, хищник/жертва

1.1.4

1.1.5

Имя участника

1.1.6

--

1.1.7 Реши, являются ли приведенные ниже утверждения касательно результатов научной работы верными (Т) либо ошибочными (V)!

a	b	c	d	e

1.1.8

--

1.1.9

--

1.1.10

--

1.1.11

--

Имя участника	
---------------	--

1.1.12

--

1.1.13

--

1.1.14

--

1.1.15

Ответ (1-3)	
-------------	--

1.1.16

--

Имя участника	
----------------------	--

1.1.17

--

1.1.18

--

1.1.19

--


1.1.20

--


Имя участника

1.2

1.2.1




1.2.2



1.2.3

a	
b	
c	

1.2.4



$f =$

Имя участника	
---------------	--

1.2.5

--

1.2.6

--

2.

2.1

2.1.1

--

2.1.2

--

2.1.3

--

Имя участника	
---------------	--

2.1.4

a	
b	

2.1.5

--

Имя участника	
---------------	--

2.2

2.2.1

a	b	c	d

2.2.2

--

2.2.3

A/B	
-----	--

2.2.4 Обведи кружком правильный вариант ответа в каждом утверждении.

- a) солнечного света/питательных веществ
- a) больше/меньше
- a) уменьшает/увеличивает
- a) уменьшая/увеличивая
- a) площадь/плотность

2.2.5

--

Имя участника	
---------------	--

2.3

2.3.1

--

2.3.2

a/b/c	
-------	--

2.3.3

a/b/c

2.3.4

Мексиканский залив, 26 °C	
Арктика, 2 °C	

2.3.5

--

2.3.6

До	
После	

Имя участника	
---------------	--

2.3.7

тяжелее / легче

способствует / мешает

усиливает / ослабляет

2.3.8

a	b	c	d

Имя участника	
---------------	--

3.

3.1

3.1.1

Описание преобразования энергии	
1.	
2.	
3.	
4.	
5.	
6.	
7.	
8.	
9.	
10.	
11.	

Имя участника

3.2

3.2.1

--	--	--	--	--

3.2.2

--

3.2.3

Свойство	Организм
a)	
b)	
c)	
d)	
e)	
f)	

3.2.4

--

Имя участника	
---------------	--

3.2.5

--

3.2.6

--

3.2.7

--

3.2.8

Формула или формулы исходных веществ	Формула или формулы продуктов

Имя участника	
---------------	--

3.2.9

3.2.10

--

3.2.11

--

3.2.12

--

Имя участника	
---------------	--

3.2.13

--

3.2.14

--